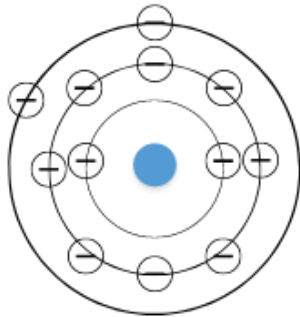


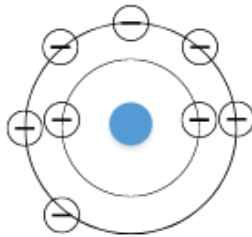
Schalenmodell – Lösungen

1) Zeichne das Schalenmodell

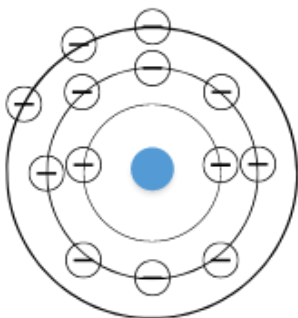
Magnesium



Sauerstoff



Phosphor



2) Schreibe in Schalen.

Kalium → 19 Ordnungszahl, 4 Periode

1. Schale: 2
2. Schale: 8
3. Schale: 9

Brom → 35 Ordnungszahl, Periode

1. Schale: 2
2. Schale: 8
3. Schale: 18
4. Schale: 7

Chlor → 17 Ordnungszahl, 3 Periode

1. Schale: 2
2. Schale: 8
3. Schale: 7